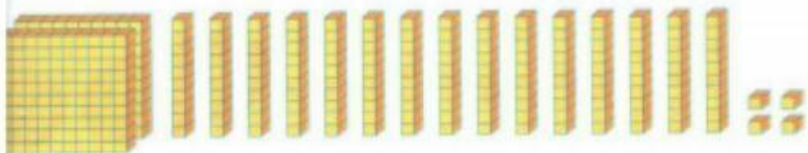


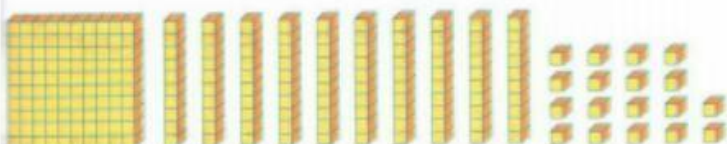
۱ در هر قسمت دسته های ده تایی درست کن و عدد هر شکل را بنویس.



صدگان	دهگان	یکان





صدگان	دهگان	یکان



صدگان	دهگان	یکان

۲ ابتدا قسمت های مساوی را از دو طرف حذف و بعد مقایسه کنید.



$$400 + 50 + 10 + 8 + 200 + 100$$



$$100 + 250 + 200 + 25 + 40 + 30$$

۳ جمع های زیر را به روش کوتاه با رسم شکل و جدول انجام بده.

$$\begin{array}{r} 268 \\ + 102 \\ \hline \end{array}$$

$$\begin{array}{r} 173 \\ + 345 \\ \hline \end{array}$$

<p>۴ علی ۲۳ سال دارد. پدرش ۲۵ سال از او بزرگ تر است. آن ها با هم چند سال دارند؟ (روش کوتاه) زیر مسئله :</p>	
<p>۵ سامان و برادرش می خواهند برای مادرشان هدیه ای بخرند. سامان ۲۱۵ ریال و برادرش ۲۰۰ ریال بیشتر از او دارد. آن ها چند ریال می توانند خرید کنند؟ (روش کوتاه) زیر مسئله :</p>	
<p>۶ طول یک میخ ۸۵ میلی متر است. با هر ضربه چکش ۵ میلی متر آن در چوب فرو می رود. پس از سه ضربه چند سانتی متر از میخ بیرون از تخته باقی می ماند؟</p>	
<p>۷ برای هر یک از کلمات زیر ، دو جمله بنویس که کلمه در هر جمله معنی متفاوتی داشته باشد. گل : گل : مهر : مهر :</p>	
<p>۸ به جای کلمه ی داخل کمانک ، کلمه ی هم معنی آن را قرار بده. آفتاب (قشنگ) صبحگاهی می تابید و نسیم (آهسته) می وزید. رنگ سرخ نشانه ی (دفاع) از میهن و آزادی آن است.</p>	
<p>۹ هر سه کلمه را در یک جمله به کار ببر. مادر ، پرچم ، ساعت</p>	