



نام و نام خانوادگی : دبستان امام حسین (ع) واحد دو پیک هفته ۹۹/۱۱/۱۶

مرور تمرینات فصل ۵ (اندازه گیری) معلم پایه دوم خانم لطفی

۱- خط های زیر را با خط کش اندازه بگیر و بنویس .



۲- اندازه ی ضلع های شکل های هندسی را با خط کش بگیر و بنویس .



۳- خط های نوشته شده را با خط کش بکش

۵ سانتی متر و ۸ میلی متر

۱۲ سانتی متر

۶ سانتی متر و ۳ میلی متر

۸ سانتی متر

۴- جاهای خالی را کامل کن

۳ سانتی متر یعنی میلی متر

۸ سانتی متر یعنی میلی متر

۹ سانتی متر یعنی میلی متر

۶ سانتی متر یعنی میلی متر



۵- جاهای خالی را کامل کن

۱۰۰ میلی متر یعنی سانتی متر

۱۴۰ میلی متر یعنی سانتی متر

۱۲۰ میلی متر یعنی سانتی متر

۴۰ میلی متر یعنی سانتی متر

۶۰ میلی متر یعنی سانتی متر

۱۰ میلی متر یعنی سانتی متر



۶- علامت مناسب بگذار (>=<)

۵ سانتی متر ۳ میلی متر ۵۳ میلی متر

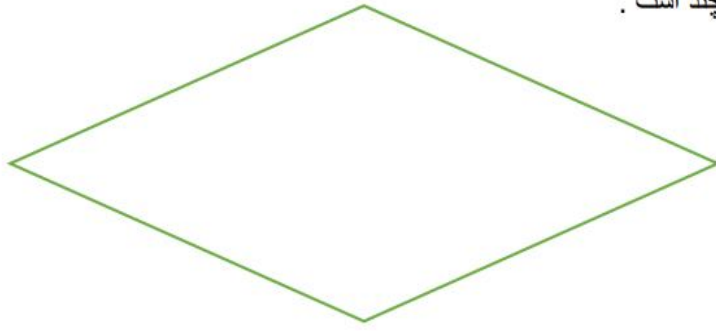
۶ سانتی متر ۵۳ میلی متر

۸ سانتی متر و ۷ میلی متر ۹۳ میلی متر

۱۳ سانتی متر ۱۴۰ میلی متر

میبنا خطی به طول ۵۶ میلی متر رسم می کند و زهرا خطی به طول ۶ سانتی متر و ۹ میلی متر اندازه کدام خط بیشتر است؟ چرا؟

حدس بزن طول خط ها چند است .



الف) ساعت ۳:۲۵ دقیقه را نشان ده .

یک ربع بعد ساعت چند می شود؟.....

نیم ساعت بعد ساعت چند می شود؟.....

ب) ساعت ۸:۱۰ دقیقه را نشان بده .

۲۰ دقیقه بعد ساعت چند است ؟

یک ربع بعد ساعت چند است ؟



با دقت رنگ کن

ساعت هایی که ربع را نشان می دهد را رنگ آبی بزن

ساعت هایی که یک ربع مانده را نشان می دهد قرمز کن

ساعت هایی که نیم را نشان می دهد زرد کن

نیاز به تلاش بیشتر	قابل قبول	خوب	خیلی خوب	
				اندازه گیری با خط کش
				مفهوم سانتی متر
				مفهوم میلی متر
				ساعت ربع و نیم
				حدس زدن
				علامت بزرگتر و کوچک تر