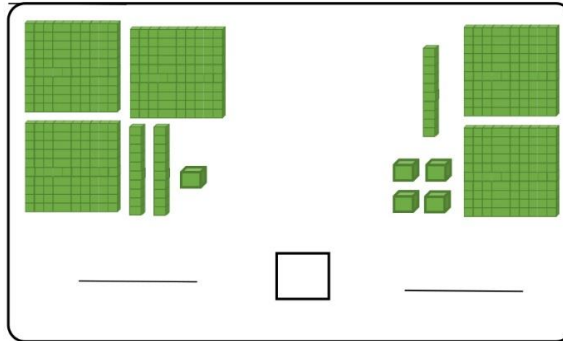
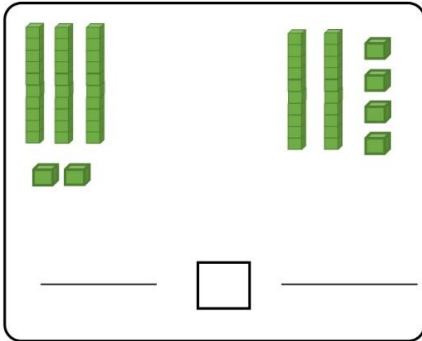
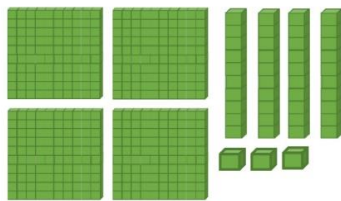


دانش آموز دانا! ابتدا برای شکل‌ها عدد مناسب بنویس سپس آن‌ها را مقایسه کن.



با توجه به شکل جدول را کامل کن.

صدگان	دهگان	یکان



به حروف:.....

به عدد:.....



حاصل جمع و تفریق‌های زیر را بنویسید.

$$۸۰۰ + ۱۰۰ =$$

$$۵۰۰ - ۳۰۰ =$$

$$۶۰۰ + ۱۰۰ =$$

$$۴۰۰ - ۲۰۰ =$$

الگوها را کامل کن.

۱۰۰ - ۲۰۰ - ۳۰۰ - ..... - ..... - ..... - ..... - ..... - .....

۹۰۰ - ۸۰۰ - ۷۰۰ - ..... - ..... - ..... - ..... - ..... - .....

۳۵۴

۸۷۴

۱۴۷



سیصد و چهل و دو

پانصد و هشتاد و دو

نهصد و نود و دو

به حروف و عدد بنویس.

مریم می‌خواهد یک عروسک بخرد قیمت عروسک ۷۵۰ تومان است مریم ۳۵۰ تومان دارد، مریم چند تومان پول برای خرید

عروسک کم دارد؟



باز شده ی عددهای زیر را بنویس.

۹۸۷

۷۰۳

۳۲۹

۶۸۰



حاصل جمع و تفریق زیر را پیدا کنید.

$$\begin{array}{r} ۳۴۷ \\ + ۴۱۲ \\ \hline \end{array}$$

$$\begin{array}{r} ۹۷۳ \\ - ۸۶۳ \\ \hline \end{array}$$

برای جمع زیر یک مساله بنویس و جواب آن را پیدا کن.

$$\begin{array}{r} ۳۴۲ \\ + ۲۱۳ \\ \hline \end{array}$$

عدد های زیر را از کوچک به بزرگ مرتب کن و بنویس.

۷۷۰ - ۲۲۳ - ۴۴۰ - ۱۰۰ - ۸۰۰ - ۹۷۰

موفق باشی \_ آموزگار ت لطفی

باز خورد آموزگار: