

۱- رضا هر شب ساعت ۹ کتاب می خواند و نیم ساعت بعد از آن می خوابد ، رضا چه ساعتی می خوابد؟  
( ساعت رسم کن و زمان را روی آن نشان بده.)

۲- ساعت چند است؟

\* نیم ساعت بعد از ۸ .....  
\* نیم ساعت مانده به ۱۰ .....

\* یک ربع بعد از ۴ .....  
\* یک ربع مانده به ۱۲ .....

۳- ابتدا مانند نمونه ، ترتیب و مقدار افزایش هر عدد را بنویس و سپس ۴ عدد بعدی را ادامه بده.

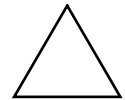
۰ ، ۵ ، ۱۵ ، ۲۰ ، ۳۰ ، ..... ، ..... ، ..... ، .....  
+۵ +۱۰ +۵ +۱۰

۱ ، ۳ ، ۷ ، ۱۳ ، ..... ، ..... ، ..... ، .....


۲ ، ۲:۳۰ ، ۳ ، ۳:۳۰ ، ۴ ، ..... ، ..... ، ..... ، .....

۴ - با توجه به شکل ها جاهای خالی را کامل کن.

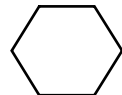
..... گوشه و ..... ضلع دارد.



۴ گوشه و ..... دارد. هر دو ضلع رو به رو با هم ..... است.



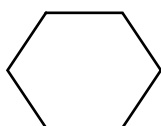
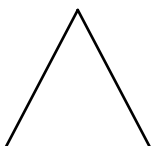
..... و ..... دارد.



۴ گوشه و ..... مساوی دارد.



۵- تفاوت و شباهت شکل های هندسی رو به رو را بنویس. ( بر اساس ضلع و گوشه )



شباهت: .....

تفاوت: .....

۶- اعدادی که دهگان ۹ دارند را به هم وصل کن و نام شکلی را که به وجود می آید بنویس.

۵۹ ●      ۹۸ ●      ۹۹ ●      ۳۹ ●

۹۱ ●      ۲۹ ●      ۶۹ ●      ۹۳ ●

۴۹ ●      ۹۶ ●      ۹۰ ●      ۱۹ ●

۷- الگوی عددی و هندسی زیر را کامل کنید.

شکل اول



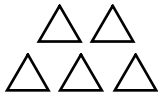
۱

شکل دوم



۳

شکل سوم



..... ،

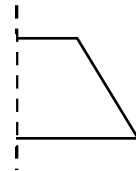
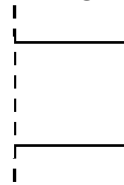
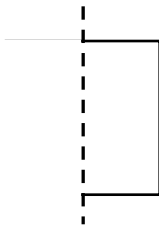
شکل چهارم

..... ،

شکل پنجم

.....

۸- با توجه به خط تقارن شکل ها را کامل کن.



۹- حاصل جمع و تفریق را با رسم شکل به دست آورید.

$$\begin{array}{r} ۳۵ \\ + ۴۹ \\ \hline \end{array}$$

$$\begin{array}{r} ۶۳ \\ - ۴۸ \\ \hline \end{array}$$

۱۰- جمع و تفریق های زیر را انجام دهید. ابتدا به صورت تقریبی بنویسید و بعد جواب را به دست آورید.

$$\begin{array}{r} ۴۸ \rightarrow \dots\dots\dots \\ + ۳۲ \rightarrow \dots\dots\dots \\ \hline \end{array}$$

$$\begin{array}{r} ۹۲ \rightarrow \dots\dots\dots \\ - ۳۸ \rightarrow \dots\dots\dots \\ \hline \end{array}$$