


به نام کردگار بی همتا

نام و نام خانوادگی : دبستان امام حسین (ع) پسرانه واحد ۲ _ بیک هفته ۹۹/۹/۱۳ _ پایه دوم

۱- عزیزم! با استفاده از یکان عددهای ۳۲، ۶۵ و ۸۱ برای دهگان و دهگان عددمای ۶۴ و ۹۷ برای یکان هر چه می توانی عدد دو رقمی بنویس .


۲- با کامل کردن شکل و عبارت پاسخ بده .



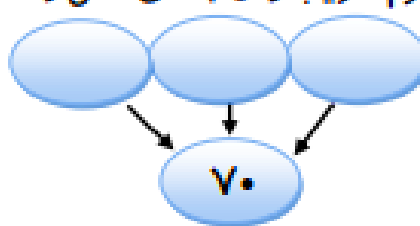
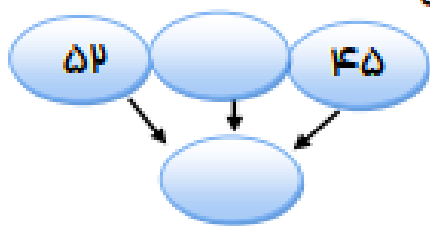

$$\begin{array}{r} ۶۸ \\ - ۲۴ \\ \hline \end{array}$$

$$\begin{array}{r} ۵۶ \\ + ۴۳ \\ \hline \end{array}$$

$$\begin{array}{r} ۱ \\ \hline ۴۰ \end{array}$$



۳- با توجه به مفهوم تقریب زدن جاهای خالی را کامل کن .



۴- جواب جمع و تفریق ها را به صورت فرایندی پیدا کن .

$$\begin{array}{r} ۳۹ \\ + ۱۸ \\ \hline \end{array}$$

$$\begin{array}{r} ۹۰ \\ - ۶۷ \\ \hline \end{array}$$

$$\begin{array}{r} ۵۳ \\ + ۲۹ \\ \hline \end{array}$$

$$\begin{array}{r} ۴۱ \\ - ۳۴ \\ \hline \end{array}$$

۵- دانش آموزان کلاس دوم علم ۴۶ کتاب و کلاس دوم ادب ۳۹ کتاب به کتاب خانه مدرسه هدیه کردند .
 دانش آموزان کلاس سوم ۳۹ تا از کتاب ها را به امانت گرفتند .
 چند کتاب در کتاب خانه باقی مانده است ؟



۶- برای عبارت روبه رو، مسأله ای زیبا بنویس و به صورت تقریبی پاسخ بده .

$$\begin{array}{r} 53 \\ - 28 \\ \hline \end{array}$$

.....

۷- حاصل دو عبارت سمت راست را به کمک جدول و دو عبارت سمت چپ را به صورت تقریبی به دست آور .

$$\begin{array}{r} 14 \\ + 44 \\ \hline \end{array}$$

$$\begin{array}{r} 87 \\ - 53 \\ \hline \end{array}$$


$$\begin{array}{r} 39 \\ + 49 \\ \hline \end{array}$$

$$\begin{array}{r} 53 \\ - 38 \\ \hline \end{array}$$



عدد ۱۸ به ۲۰ نزدیک تر است یا به ۱۰ ؟ عدد به ۵۰ نزدیک تر است یا به ۴۰ ؟ ۴۰

عدد ۸۵ به نزدیک تر است یا به ؟ عدد به ۳۰ نزدیک تر است یا به ؟ ۴۰



ساعت ۴ و ۴ دقیقه است .



ساعت ۸ و ۳۹ دقیقه است .

« تکلیف فارسی »

با توجه به اهداف درس ۷ دوستان ما (مشاغل)

- پسرم برای تصاویر زیر این مدافعان سلامت و امنیت نامه ای زیبا و تشکر به خاطر تلاش شبانه روزی این عزیزان بنویس.



پدر احسان انصاری مهر



مادر علیرضا کیانی



مادر علی اکبر ضیایی

پسرم از تلاش و همت تو در کلاس مجازی و آنلاین سپاس گزارم موفق باشی _ خانم لطفی