





نام و نام خانوادگی: دبستان آنسام حسین واحد ۲ _ یک هفته ۹۹۸۸۱۵





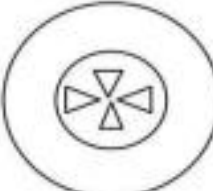

۱- شکل هایی که تعداد ضلع ها و گوشه هایشان با هم برابر است را به هم وصل کنید.

ضلع		ضلع	
گوشه		گوشه	
ضلع		ضلع	
گوشه		گوشه	





۲- با کمک خط کش شکل های خواسته شده را بکشید و بنویسید چند گوشه دارند؟

۶ ضلعی 	۵ ضلعی 
..... گوشه گوشه

۳- در تصاویر زیر شکل ها بی که مانند شکل روبرو است ، را رنگ کنید.

					
---	---	---	---	--	---

۴- جملات درست را پیدا کن و صورتک آن را رنگ بزن -

		- مستطیل چهار ضلع و چهار گوشه دارد.
		- مثلث چهار ضلع و ۳ گوشه دارد.

۵- الگوی عددی را ادامه دهید. ۲۵ - ۲۶ - ۲۸ - - - -


۴۰ - ۴۲ - - - -

۶ - عقربه های ساعت را بکشید.



۹:۴۰

۷- با یک خط کش هر شکل را به دو قسمت مساوی تقسیم کنید.

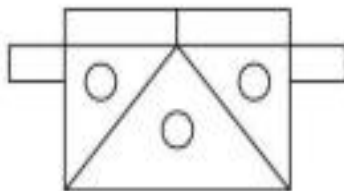






۸- فاطمه هر روز صبح ساعت ۷ بیدار می شود. بعد از نیم ساعت به مدرسه می رود. او چه ساعتی به مدرسه می رود؟

۹- مهدی نیم ساعت مانده به ۱۰ به کتاب خانه رسید. او چه زمانی به کتاب خانه رسیده است؟

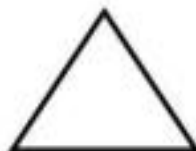
۱۰- با اشکال مربع، مستطیل، دایره و مثلث، یک شکل بکشید.

۱۱- در شکل زیر به تعداد هر شکل، چوب خط بکشید.


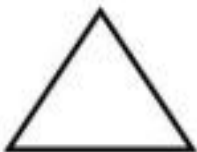


				شکل
				نام
				چوب خط

۱۲- وسط ضلع های را پیدا کنید و با خط کش به هم وصل کنید.



۱۳- به دو شکل زیر نگاه کنید و تفاوت و شباهت آن ها را بنویسید.



تفاوت:

شباهت: